

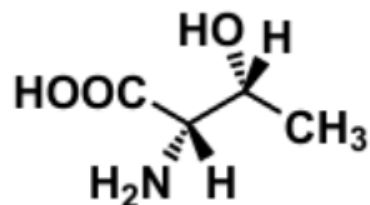
DM n° 2 : Représentations des molécules (Isomérisation)

Tutorat 2025-2026 : 10 QCMS – Durée : 10 min (ou un peu plus)

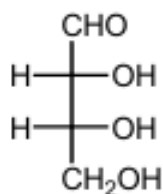


Consigne pour toutes les molécules : Donnez les noms des représentations données des molécules suivantes et mettez-les dans les deux autres représentations :

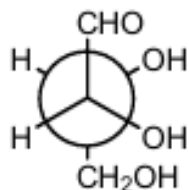
1 :



2 :



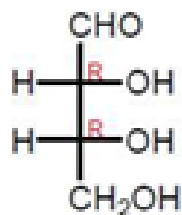
3 :



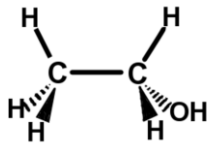
4 :



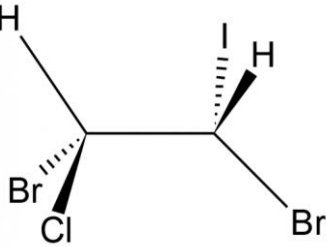
5 :



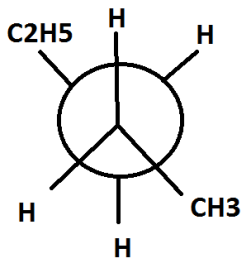
6 :



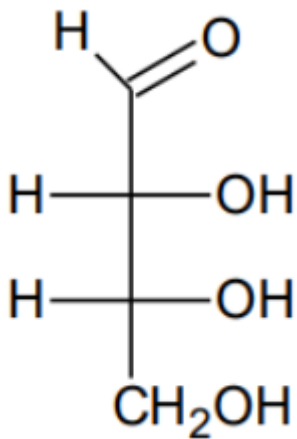
7 :



8 :



9 :



10 :

